

pelatihan akhir semester 1

a pilihlah jawaban yang paling benar

contoh

1 $3 - 2 = \dots$

a 2

b 3

c 1

jawaban

1 c

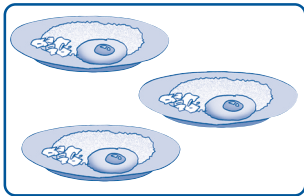
1 $18 - 6 = \dots$

a 10

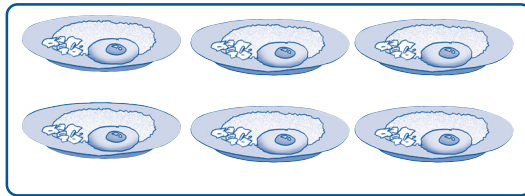
b 11

c 12

2



+



= ...

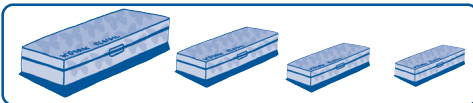
a 10

b 9

c 12

3 urutan kelompok benda berikut dari yang terbesar adalah ...

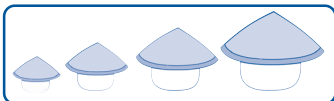
a



b



c

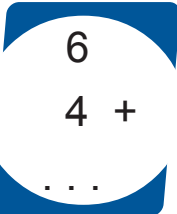


- 4 ada 15 ekor burung
ditembak oleh pemburu 8 ekor
sisa burung yang masih hidup ... ekor

a 7
b 8
c 12

- 5  banyaknya bebek adalah ...

a 8
b 9
c 10


- 6  a 8
b 9
c 10

- 7 drum termasuk bangun ...

a kerucut
b tabung
c bola

- 8 delapan belas ditulis ...

a 18
b 1
c 20

- 9  gambar di samping
menunjukkan pukul ...

a 5
b 9
c 12

10 tidur siang lebih ... daripada tidur di malam hari

- a sukar
- b lama
- c sebentar

11

17	16	19	20	18
----	----	----	----	----

urutan bilangan di atas dari yang terkecil adalah ...

- a

16	17	18	19	20
----	----	----	----	----
- b

20	19	18	17	16
----	----	----	----	----
- c

17	16	18	19	20
----	----	----	----	----

12 sekarang adalah hari jumat

lusa adalah hari ...

- a sabtu
- b minggu
- c senin

13  jarum panjang menunjuk ke angka ...

- a 9
- b 11
- c 12

14 3 jam setelah pukul 6 adalah ...

- a pukul 7
- b pukul 8
- c pukul 9

15  gambar di samping berbentuk ...

- a balok
- b tabung
- c kubus


16



raket bulu tangkis lebih ...
daripada raket tenis meja

- a panjang
- b pendek
- c rendah

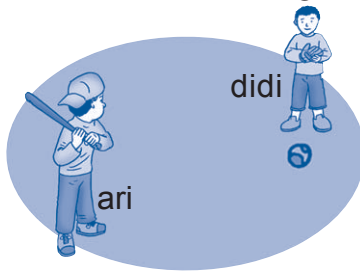
17



pohon pisang lebih ...
daripada pohon kelapa

- a panjang
- b tinggi
- c rendah

18



jarak ari dengan bola ...

- a jauh
- b dekat
- c rendah

19 paman membeli 5 ayam
lalu membeli 3 ayam lagi
berapa ayam yang dibeli paman

- a 2
- b 5
- c 8

20 sekarang adalah bulan desember
sebelumnya adalah bulan ...




- a januari
- b november
- c oktober

b isilah titik titik pada soal berikut

1 $17 + 3 = \dots$

2 aku sakit selama 1 minggu 5 hari
maka aku sakit selama . . . hari


3 kakek bermain catur selama 2 jam
kakek mulai bermain catur pada pukul 10
kakek selesai bermain catur pada pukul ...

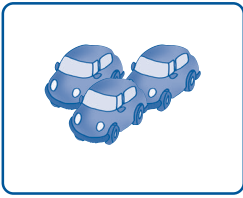


4  dikurangi  sama dengan 

19 - 11 = ...

5 manakah yang lebih pendek atau panjang
mobil lebih . . . daripada kereta api


6 2 bulan setelah bulan april adalah bulan ...

7  jam di samping
menunjukkan pukul ...

8  ditambah  sama dengan 

3 + 9 = . . .

9



anak di atas mengukur meja
menggunakan satuan ...

10 kaleng susu berbentuk ...

c selesaikan soal soal berikut

- 1 lina menyanyikan lagu nama nama hari
di depan kelas
coba kamu tuliskan nama nama hari
yang dinyanyikan lina
- 2 kakek mempunyai dua kandang bebek
kandang pertama berisi 8 ekor bebek
kandang kedua berisi 10 ekor bebek
berapa jumlah bebek kakek
- 3 ayah tidur pada pukul 1
ayah bangun pada pukul 6
berapa lama ayah tidur
- 4 ada 13 ikan di dalam kolam
lalu 6 ekor dimakan kucing
berapa ikan yang tersisa
- 5 gambarkanlah sebuah balok

**LATIHAN SOAL DI ATAS DI AMBIL DARI BUKU BSE
KEMDIKBUD**

bukupaket.com